

请写清校名、姓名、班级。  
仔细读题，认真答题。  
请书写工整，卷面整洁。

学校 \_\_\_\_\_ 班级 \_\_\_\_\_ 姓名 \_\_\_\_\_

探究乐园




## 第一单元检测卷

■ 测试时间:60 分钟 测试总分:100 分



题号	一	二	三	四	五	六	七	八	九	十	总分
得分											

### 一、看图写算式。(8 分)



$$7 \div 3 = 2 \text{ (个)} \cdots \cdots 1 \text{ (个)}$$

$$7 \div 2 = 3 \text{ (份)} \cdots \cdots 1 \text{ (个)}$$



$$24 \div 4 = 5 \text{ (个)} \cdots \cdots 4 \text{ (个)}$$

$$24 \div 5 = 4 \text{ (盘)} \cdots \cdots 4 \text{ (个)}$$

### 二、填空。(每小题 2 分,共 14 分)

1.  $13 \div 4 = 3 \cdots \cdots 1$  读作( 13 除以 4 等于 3 余 1 ),商是( 3 ),除数是( 4 ),余数是( 1 )。

2. 在有余数的除法中,( 余数 )都比除数小。

3.  $\square \div \square = 4 \cdots \cdots 5$  中,除数最小是( 6 ),这时被除数是( 29 )。

4.  $27 \div 5 = 5 \cdots \cdots 2$      $40 \div 6 = 6 \cdots \cdots 4$  (答案不唯一)

5. 22 里面最多有( 3 )个 7;49 里面最多有( 6 )个 8。

6. 糊一个正方体纸盒要用 6 张纸,50 张纸最多可以糊( 8 )个。

7. 学校买了 42 支拖把,至少拿走( 2 )支,剩下的才能正好平均分给 8 个班;至少再买( 6 )支,也能平均分给 8 个班。

### 三、选一选,将正确答案的序号填在括号里。(6 分)

- 一道除数是 5 的除法,如果有余数,余数可能是( ③ )。  
① 5、4、3、2、1    ② 4、3、2、1、0    ③ 4、3、2、1
- $a \div b = 4 \cdots \cdots 2$  中,下列说法正确的是( ② )。  
①  $a = b \div 4 + 2$     ②  $a = b \times 4 + 2$     ③  $a = b \times 4 - 2$
- 一些跳绳平均分给 3 个组或平均分给 4 个组,都剩 2 根,跳绳最少有( ③ )根。  
① 10    ② 12    ③ 14

### 四、计算。(12 分)

1. 直接写得数。(4 分)

$$4 \times 10 = 40 \quad 22 + 39 = 61 \quad 62 - 28 = 34 \quad 25 \div 8 = 3 \cdots \cdots 1$$

$$76 \div 9 = 8 \cdots \cdots 4 \quad 68 \div 7 = 9 \cdots \cdots 5 \quad 41 \div 5 = 8 \cdots \cdots 1 \quad 33 \div 9 = 3 \cdots \cdots 6$$

2. 计算下面各题。(8 分)

$$\begin{array}{r} 5 \\ 2 \overline{) 11} \\ \underline{10} \\ 1 \end{array} \quad \begin{array}{r} 8 \\ 4 \overline{) 35} \\ \underline{32} \\ 3 \end{array} \quad \begin{array}{r} 3 \\ 4 \overline{) 14} \\ \underline{12} \\ 2 \end{array} \quad \begin{array}{r} 6 \\ 6 \overline{) 36} \\ \underline{36} \\ 0 \end{array}$$

### 五、下面的计算对吗? 对的画“√”,把错误的改正过来。(8 分)

$$\begin{array}{r} 6 \\ 3 \overline{) 14} \\ \underline{18} \\ 4 \end{array} \quad \begin{array}{r} 8 \\ 5 \overline{) 48} \\ \underline{40} \\ 8 \end{array} \quad \begin{array}{r} 9 \\ 7 \overline{) 64} \\ \underline{63} \\ 1 \end{array} \quad \begin{array}{r} 7 \\ 4 \overline{) 32} \\ \underline{28} \\ 4 \end{array}$$

改正:

$$\begin{array}{r} 4 \\ 3 \overline{) 14} \\ \underline{12} \\ 2 \end{array} \quad \begin{array}{r} 9 \\ 5 \overline{) 48} \\ \underline{45} \\ 3 \end{array} \quad \begin{array}{r} 8 \\ 4 \overline{) 32} \\ \underline{32} \\ 0 \end{array}$$




六、列式计算。(6分)

1. 被除数是 75,除数是 9,商是多少? 余数是多少?  
 $75 \div 9 = 8 \cdots 3$

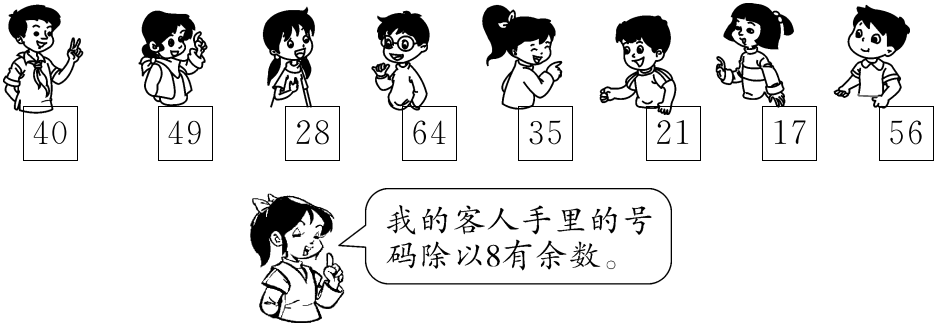
2. 66 连续减 8,减几次余 2?  
 $66 \div 8 = 8 \cdots 2$

七、填一填。(6分)

有 15 个车轮,分别可以装几辆车,还剩几个车轮?

			
可装几辆车	7 辆	5 辆	3 辆
还剩几个车轮	1 个	0 个	3 个

八、丁丁请客。(8分)



丁丁的客人有哪些? 写下客人的号码。  
答: 49 28 35 21 17


九、( )里最大能填几?(6分)

$25 > 8 \times ( 3 )$        $4 \times ( 9 ) < 38$        $55 \div ( 7 ) > 7$   
 $82 > ( 9 ) \times 9$        $19 > ( 4 ) \times 4$        $( 5 ) \times 7 < 39$


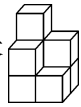
十、解决问题。(26分)

1. 每件上衣要钉 5 颗扣子,18 颗扣子最多可以钉几件上衣,还剩几颗?(6分)  
 $18 \div 5 = 3(\text{件}) \cdots 3(\text{颗})$   
答: 18 颗扣子最多可以钉 3 件上衣,还剩 3 颗。

2. 乐乐排在第 25 位,第几次才能进去?(6分)



$25 \div 4 = 6(\text{次}) \cdots 1(\text{人})$   
 $6 + 1 = 7(\text{次})$   
答: 第 7 次才能进去。

3. 用 70 块  搭 ,最多可以搭几组?(7分)  
 $70 \div 8 = 8(\text{组}) \cdots 6(\text{块})$   
答: 最多可以搭 8 组。

4. 看图编一道有余数的除法应用题,并解答。(7分)



示例: 小红买来 11 个苹果,如果用两个盘子来装,平均每个盘子要装几个,还剩几个?  
 $11 \div 2 = 5(\text{个}) \cdots 1(\text{个})$